


K ČEMU JE DOBRÁ FYZIKA

1. Které z těchto věcí patří k fyzice? Napiš k nim písmeno F.



JAK MĚŘÍME DÉLKU

1. Čím kdo měří? Spoj čarou člověka a měřidlo, které potřebuje.



3. JAK MĚŘÍME DÉLKU

Co se učíme v matematice

Jednotkou délky je metr. Značka metru je m. Ukaž rukou, jak je přibližně dlouhý metr.

Jeden metr má 100 centimetrů. Značka centimetru je cm.


Narysuj dva body vzdálené od sebe 1 cm.

Jeden centimetr má 10 milimetrů. Značka milimetru je mm.

Narysuj dva body vzdálené od sebe 3 mm.

Velké vzdálenosti měříme v kilometrech. Značka kilometru je km. Zjistí, kolik kilometrů od školy bydlíš.

Petr měří délku prkna.
Naměřil 70 cm.




Chce uříznout tyč stejně dlouhou. Odměří na ní také 70 cm.




Měříme různými měřidly

Zedník měří skládacím metrem.

Změř, jak jsou široké dveře třídy.

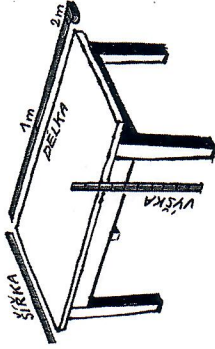


Odměř 60 cm od kraje tabule.



Truhlář měří svinovacím metrem.

Změř délku, šířku a výšku stolu.




Odměř na tyči délku 34 cm.




Švadlena měří krejčovským metrem.

Změř si obvod pasu.

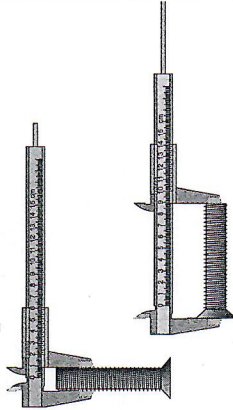


Odměř a ustříhni provázek dlouhý 77 cm.



Zámečnick měří posuvným měřítkem.

Změř průměr a délku šroubu.



Odměř kus špejle dlouhý 36 mm.

