

# PŮVOD A VÝVOJ ČLOVĚKA

## CO UŽ VÍME O NAŠICH ŽIVOČIŠNÝCH PŘEDCHŮDCÍCH

1. Zakroužkuj správné odpovědi.


Člověk patří mezi savce.

ANO – NE

Mláďata savců se živí mateřským mlékem.

ANO – NE


2. Přiřaď k obrázku savce skupinu, do které patří.



KOPYTNÍCI



ŠELMY



HMYZOŽRAVCI

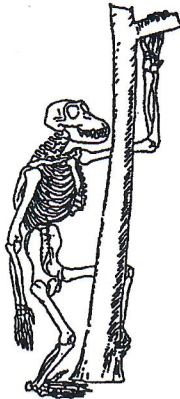
3. Doplň zástupce.

OPICE: \_\_\_\_\_

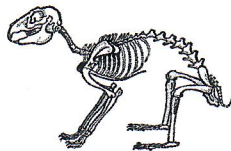
LIDOOPI: \_\_\_\_\_

## OD NAŠICH PŘEDCHŮDCŮ K DNEŠNÍMU ČLOVĚKU

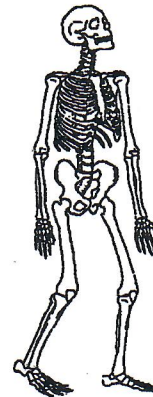
1. Přiřaď k obrázku kostry název savce, kterému patří. (\*)



KOSTRA ČLOVĚKA



KOSTRA LIDOOPA



KOSTRA KRÁLÍKA