

23.3. - 29.3. 2020

2. Jak se jmenují měřidla? Spoj čarou obrázek a název měřidla.



- pásma
- posuvné měřítko
- krejčovský metr
- skládací metr

3. Napiš za sebou tyto jednotky od nejmenší po největší.

**kilometr      milimetr      metr      centimetr      decimetr**

---



---

4. Pomocí pravítka narýsuj úsečky dlouhé 2 cm, 6 cm, 25 mm.

5. Jak dlouhé jsou úsečky? Bez měření spoj čarou úsečku a její délku.



1 dm



45 mm



2 cm



30.3. - 5.4.2020

6. Jak dlouhé jsou úsečky? Změř každou úsečku pravítkem a napiš nad ni její délku.



7. Ke každé jednotce přiřaď její značku.

metr \_\_\_\_\_

milimetr \_\_\_\_\_

centimetr \_\_\_\_\_

decimetr \_\_\_\_\_

8. Doplň správnou jednotku délky.


Vzdálenost z Prahy do Brna je 210 \_\_\_\_\_ .

Dveře jsou široké 80 \_\_\_\_\_ .



Průměr šroubu je 10 \_\_\_\_\_ .

Světový rekord v hodu oštěpem je 84 \_\_\_\_\_ .



9. Ke každému obrázku napiš **SPRÁVNĚ**, nebo **ŠPATNĚ**.



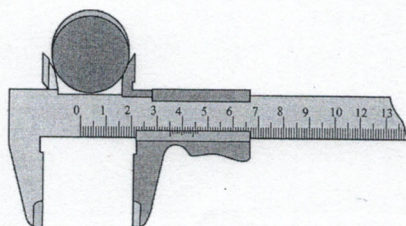
\_\_\_\_\_



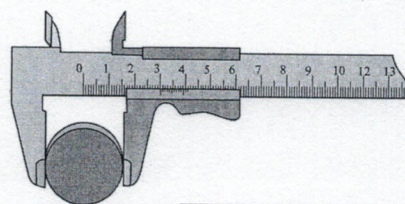
\_\_\_\_\_



\_\_\_\_\_



\_\_\_\_\_



\_\_\_\_\_